

わたしたちの草津

デジタルもんだいへようこそ！

はじめて
の人は
こちら

はじめての人へ

ここを
タッチ

学年のページへ



はじめて つかう人へ

ようこそ、「わたしたちの草津」デジタルもんだいへ！

このデジタルもんだいは、草津市（くさつし）の先生たちが

つくりました。どの もんだいも こたえだと思ふものを 1つ

えらんで タッチすると つぎの がめん に すすみ ます。ただし、

すべての がめん が ひとつ なぎに なっている ので、がめんを

スライドさせて しまうと べつ の がめん が 出て きて しま います。

タッチのみで、どの もんだいも すすめて いく よう に しま しょう。

それでは…

ここを
タッチ

学年のページへ

スタート
にもどる

学年のページ

あなたは、何年生ですか？ 自分の学年をクリック！

3年生

4年生

3年生のもくじ

チャレンジしたい もんだいを えらびましょう

- 1 草津市の様子
(くさつしのようす)
- 2 農家ではたらく人びとの仕事
(のうかではたらくひとびとのしごと)
- 3 工場ではたらく人びとの仕事
(こうじょうではたらくひとびとのしごと)
- 4 店ではたらく人びとの仕事
(みせではたらくひとびとのしごと)
- 5 火事から人びとを守る
(かじからひとびとをまもる)
- 6 交通事故や事件をふせぐ
(こうつうじこやじけんをふせぐ)
- 7 うつりかわる市とくらし
(うつりかわるしとくらし)

4年生のもくじ

チャレンジしたい 問題を えらびましょう

- 8 日本の都道府県
(にほんのとどうふけん)
- 9 わたしたちの県のように
(わたしたちのけんのように)
- 10 暮らしをささえる水
(くらしをささえるみず)
- 11 ごみのしよ理と活用
(ごみのしよりとかつよう)
- 12 自然災害から命を守る
(しぜんさいがいからいのちをまもる)
- 13 暮らしの中につたわる願い
(くらしのなかにつたわるねがい)
- 14 地いきの発てんにつくした人びと
(ちいきのはってんにつくしたひとびと)
- 15 市や町をたずねよう
(しやまちをたずねよう)

1 草津市の様子 (くさつしのようす)



デジタル問題 はじめ



3年もくじ
にもどる



スタート
にもどる

1 草津市の様子（くさつしのようす） 第1問

1-1

右下のしゃしんは、草津市のある場所です。何という場所でしょう。つぎの①～④からえらびましょう。

① 草津グリーンスタジアム

② 立めいかん大学

③ 草津小学校の運動場

④ パナソニックきゅう場



3年もくじ
にもどる



はじめての
問題に
もどる



スタート
にもどる

× ざんねん！ もういちど やってみよう



まえの問題（1-1）にもどる



3年もくじ
にもどる



はじめの
問題に
もどる



スタート
にもどる

◎正かい！おみごと！ つぎの問題へ

1 草津市の様子（くさつしのようす） 第2問

1-2

右下の地図にないものは、どれでしょう。つぎの①～④からえらびましょう。

① びょういん

② 学校

③ はつ電しよ

④ 工場



3年もくじ
にもどる



はじめの
問題に
もどる



スタート
にもどる

× ざんねん！ もういちど やってみよう



まえの問題（1－2）にもどる



3年もくじ
にもどる



はじめの
問題に
もどる



スタート
にもどる

◎正かい！おみごと！ つぎの問題へ

1 草津市の様子（くさつしのようす） 第3問

1-3

右下の地図を見て 一番多いものは、どれでしょう。

- ① 学校
- ② 工場
- ③ 市やくしよ
- ④ はつ電しよ



3年もくじ
にもどる



スタート
にもどる

はじめての
問題に
もどる

× ざんねん！ もういちど やってみよう



まえの問題（1－3）にもどる



3年もくじ
にもどる



はじめの
問題に
もどる



スタート
にもどる

◎正かい！おみごと！ つぎの問題へ

1 草津市の様子（くさつしのようす） 第4問

1 - 4

草津市のようすで、正しい文は どれでしょう。

- ① びわこの近くには、工場がたくさんある。
- ② 山の近くには、えき や じゅうたく が多い。
- ③ びわこの近くには、田畑が広がっている。
- ④ 南草津えき前には、ビニールハウスが多い。

はじめての
問題に
もどる

3年もくじ
にもどる

スタート
にもどる

× ざんねん！ もういちど やってみよう



まえの問題（1－4）にもどる



3年もくじ
にもどる



はじめの
問題に
もどる



スタート
にもどる

◎正かい！おみごと！ つぎの問題へ

1 草津市の様子（くさつしのようす） 第5問

1 - 5

右のしゃしんのしせつでは、
どんなことが、できるでしょう。



- ① 野きゅうのしあいができる。
- ② 本をかりることができる。
- ③ ピアノの発表会（はっぴようかい）ができる。



3年もくじ
にもどる



はじめの
問題に
もどる



スタート
にもどる

× ざんねん！ もういちど やってみよう



まえの問題（1－5）にもどる



3年もくじ
にもどる




はじめの
問題に
もどる



スタート
にもどる

◎正かい！おみごと！
さいごまでたいへんよくがんばりました。

また、
チャレンジしてね！



3年もくじ
にもどる



はじめの
問題に
もどる



スタート
にもどる

2 農家ではたらく人びとの仕事 (のうかではたらくひとびとのしごと)



デジタル問題 はじめ



3年もくじ
にもどる



スタート
にもどる

2 農家ではたらく人びとの仕事 第1問 (のうかではたらくひとびとのしごと)

2-1

メロンをそだてるとき、ある生きもの の 力を かります。その 生きものは、つぎのどれでしょう。

① アゲハチョウ

② ダンゴムシ

③ ハチ

④ アリ



はじめの
問題に
もどる



3年もくじ
にもどる



スタート
にもどる

× ざんねん！ もういちど やってみよう



まえの問題（2-1）にもどる



3年もくじ
にもどる



はじめの
問題に
もどる



スタート
にもどる

◎正かい！おみごと！ つぎの問題へ

2 農家ではたらく人びとの仕事 (のうかではたらくひとびとのしごと)

第2問

2-2

メロンをつくるときは、この中で しま
す。

しゃんの場合よは、何というでしょう。

① ビニールテント

② ビニールハウス

③ ビニールホール

④ ビニールカバー



3年もくじ
にもどる



はじめの
問題に
もどる



スタート
にもどる

× ざんねん！ もういちど やってみよう



まえの問題（2-2）にもどる



3年もくじ
にもどる



はじめの
問題に
もどる



スタート
にもどる

◎正かい！おみごと！ つぎの問題へ

2 農家ではたらく人びとの仕事 (のうかではたらくひとびとのしごと)

第3問

2 - 3

つぎの文の () に入ることばを えらびましょう。

草津野菜センターでは、もちこまれた草津メロンの () をしらべて それをもとに分けていきます。

①糖度 (とうど) …あまさのこと

②温度 (おんど)

③種の数 (たねのかず)



3年もくじ
にもどる



はじめての
問題に
もどる



スタート
にもどる

× ざんねん！ もういちど やってみよう



まえの問題（2－3）にもどる



3年もくじ
にもどる



はじめの
問題に
もどる



スタート
にもどる

◎正かい！おみごと！ つぎの問題へ

2 農家ではたらく人びとの仕事 (のうかではたらくひとびとのしごと)

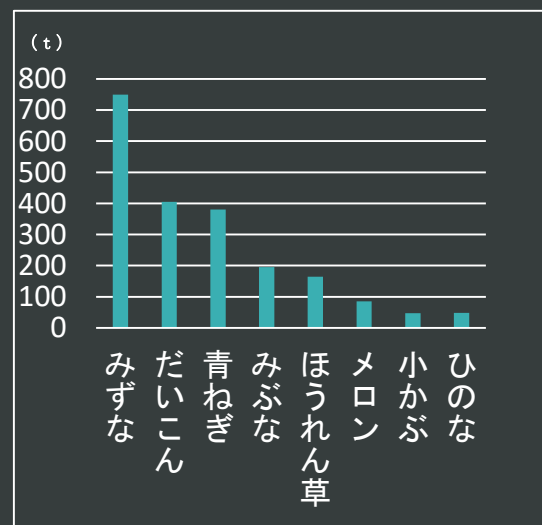
第4問

2 - 4

しりょうからわかる 正しい文を えらびましょう。

- ① さつまいもが作られている。
- ② みぶなが一番、多く作られている。
- ③ みずなが700tも作られている。
- ④ メロンは青ねぎより作られている。

草津市の野菜生産量



3年もくじ
にもどる



はじめての
問題に
もどる



スタート
にもどる

× ざんねん！ もういちど やってみよう



まえの問題（2-4）にもどる



3年もくじ
にもどる



はじめの
問題に
もどる



スタート
にもどる

◎正かい！おみごと！ つぎの問題へ

2 農家ではたらく人びとの仕事 第5問 (のうかではたらくひとびとのしごと)

2-5

農家 (のうか) の人の とりくみでは ないものはどれでしょう。

- ① 温度(おんど)の管理(かんり)
- ② 量(りょう)を考えた水やりと土の分析(ぶんせき)
- ③ 全国のお店へ配達(はいたつ)
- ④ 農家(のうか)の人による勉強会(べんきょうかい)

《《《
はじめの
問題に
もどる



3年もくじ
にもどる



スタート
にもどる

× ざんねん！ もういちど やってみよう



まえの問題（2-5）にもどる



3年もくじ
にもどる




はじめの
問題に
もどる



スタート
にもどる

◎正かい！おみごと！
さいごまでたいへんよくがんばりました。

また、
チャレンジしてね！



3年もくじ
にもどる



はじめての
問題に
もどる



スタート
にもどる

3 工場ではたらく人びとの仕事 (こうじょうではたらくひとびとのしごと)



デジタル問題 はじめ



3年もくじ
にもどる



スタート
にもどる

3 工場ではたらく人びとの仕事 (こうじょうではたらくひとびとのしごと)

第1問

3-1

つぎの文の () に入ることばをえらびましょう。

原料や作られたせいひんが、はこびやすいので、() のそばには
工場がたくさんあります。

① 高速道路 (どうろ)

② 新幹線 (しんかんせん)

③ 地下鉄 (ちかてつ)



3年もくじ
にもどる



はじめの
問題に
もどる



スタート
にもどる

× ざんねん！ もういちど やってみよう



まえの問題（3-1）にもどる



3年もくじ
にもどる



はじめの
問題に
もどる



スタート
にもどる

◎正しい！おみごと！ つぎの問題へ

3 工場ではたらく人びとの仕事 第2問 (こうじょうではたらくひとびとのしごと)

3-2

工場で作られた れいぞうこの行き先について、正しい文をえらびましょう。

- ① 京都など近くの地いきにだけ輸送（ゆそう）している。
- ② トラックや船を使って日本国内や海外に輸送（ゆそう）している。
- ③ ひこうきを使って海外にだけ輸送（ゆそう）している。



3年もくじ
にもどる



はじめの
問題に
もどる



スタート
にもどる

× ざんねん！ もういちど やってみよう



まえの問題（3-2）にもどる



3年もくじ
にもどる



はじめての
問題に
もどる



スタート
にもどる

◎正しい！おみごと！ つぎの問題へ

3 工場ではたらく人びとの仕事 第3問 (こうじょうではたらくひとびとのしごと)

3-3

右下の しゃしんは、何をしている ところでしょう。

- ① コンプレッサーをとりつける。
- ② 内箱（うちばこ）を作る。
- ③ せいのうけんさをする。
- ④ 中の部品(ぶひん)をとりつける。



3年もくじ
にもどる



はじめの
問題に
もどる



スタート
にもどる

× ざんねん！ もういちど やってみよう



まえの問題（3-3）にもどる



3年もくじ
にもどる



はじめての
問題に
もどる



スタート
にもどる

◎正しい！おみごと！ つぎの問題へ

3 工場ではたらく人びとの仕事 第4問 (こうじょうではたらくひとびとのしごと)

3 - 4

工場の人気がつけていることについて、つぎの文の（ ）に入ることばをえらびましょう。

毎日使うものだから、使う人のことや（ ）を考えて
れいぞうこをつくっています。

① 値段（ねだん）

② 運び（はこび）やすさ

③ 地球（ちきゅう）かんきょう

④ 大きさ



3年もくじ
にもどる



はじめの
問題に
もどる



スタート
にもどる

× ざんねん！ もういちど やってみよう



まえの問題（3－4）に もどる



3年もくじ
にもどる



はじめての
問題に
もどる



スタート
にもどる

◎正しい！おみごと！ つぎの問題へ

3 工場ではたらく人びとの仕事 第5問 (こうじょうではたらくひとびとのしごと)

3 - 5

工場ではたらく人について、正しい文をえらびましょう。

- ① 草津市内（くさつしない）の人だけがはたらいている。
- ② 工場内では、みんな同じ仕事（しごと）をしている。
- ③ れいぞうこを組み立てる仕事（しごと）は一人でする。
- ④ ぼうしの色で、仕事（しごと）のやくわりを分けている。

はじめての
問題に
もどる

3年もくじ
にもどる

スタート
にもどる

× ざんねん！ もういちど やってみよう



まえの問題（3－5）にもどる



3年もくじ
にもどる




はじめの
問題に
もどる



スタート
にもどる

◎正かい！おみごと！
さいごまでたいへんよくがんばりました。

また、
チャレンジしてね！



3年もくじ
にもどる



はじめての
問題に
もどる



スタート
にもどる

4 店ではたらく人びとの仕事 (みせではたらくひとびとのしごと)



デジタル問題 はじめ



3年もくじ
にもどる



スタート
にもどる

4 店ではたらく人びとの仕事 (みせではたらくひとびとのしごと)

第1問

4-1

つぎの文の () に入ることばを えらびましょう。

スーパーマーケットなどの お店で 売られている くだものや 野菜には、
() を書いて、つくられた場所がわかるようにしている。

- ① サービス
- ② 店の名前
- ③ 産地 (さんち)



3年もくじ
にもどる



はじめての
問題に
もどる



スタート
にもどる

× ざんねん！ もういちど やってみよう



まえの問題（4-1）にもどる



3年もくじ
にもどる



はじめの
問題に
もどる



スタート
にもどる

◎正かい！おみごと！ つぎの問題へ

4 店ではたらく人びとの仕事 第2問 (みせではたらくひとびとのしごと)

4-2

つぎのスーパーマーケットの取り組みのうち、かんきょうを まもるための 取り組みは どれでしょう。

① リサイクルボックスの設置(せっち)

② 車いすのかし出し

③ 品物(しなもの)をならべる

④ チラシをくばる



3年もくじ
にもどる



はじめの
問題に
もどる



スタート
にもどる

× ざんねん！ もういちど やってみよう



まえの問題（4-2）にもどる



3年もくじ
にもどる



はじめの
問題に
もどる



スタート
にもどる

◎正しい！おみごと！ つぎの問題へ

4 店ではたらく人びとの仕事 第3問 (みせではたらくひとびとのしごと)

4-3

スーパーマーケットなどの お店の人がくふうするのは、なぜでしょう。ふさわしいものを1つ えらびましょう。

- ① おきやくさんをへらすため
- ② 品物(しなもの)のねだんをあげるため
- ③ おきやくさんによるこんでもらうため
- ④ お店ではたらく人をふやすため

《《《
はじめの
問題に
もどる

☰
3年もくじ
にもどる

《《《
スタート
にもどる

× ざんねん！ もういちど やってみよう



まえの問題（4－3）にもどる



3年もくじ
にもどる



はじめの
問題に
もどる



スタート
にもどる

◎正かい！おみごと！ つぎの問題へ

4 店ではたらく人びとの仕事 第4問 (みせではたらくひとびとのしごと)

4 - 4

いろいろなお店について話しています。コンビニエンスストアについて話しているのは、どれでしょう。

- ① たくさん買えるようにカートがおいてあるよ。
- ② ほしい分だけ「量り売り(はかりうり)」してもらえるよ。
- ③ しんせんな魚やお肉を買うことができるよ。
- ④ 24時間えいぎょうだから朝早く買いに行けるよ。

はじめての
問題に
もどる

3年もくじ
にもどる

スタート
にもどる

× ざんねん！ もういちど やってみよう



まえの問題（4-4）にもどる



3年もくじ
にもどる



はじめの
問題に
もどる



スタート
にもどる

◎正かい！おみごと！ つぎの問題へ

4 店ではたらく人びとの仕事 第5問 (みせではたらくひとびとのしごと)

4 - 5

お店では、レジぶくろが有料化されました。そのわけを えらびましょう。

- ① レジぶくろの数がへったから
- ② プラスチックごみをへらすため
- ③ エコバッグをもつ人がふえたから
- ④ お店の売り上げをのばすため



3年もくじにもどる



はじめの問題にもどる



スタートにもどる

× ざんねん！ もういちど やってみよう



まえの問題（4－5）にもどる



3年もくじ
にもどる




はじめの
問題に
もどる



スタート
にもどる

◎正かい！おみごと！
さいごまでたいへんよくがんばりました。

また、
チャレンジしてね！



3年もくじ
にもどる



はじめての
問題に
もどる



スタート
にもどる

5 火事から人びとを守る (かじからひとびとをまもる)



デジタル問題 はじめ



3年もくじ
にもどる



スタート
にもどる

◎正かい！おみごと！ つぎの問題へ

5 火事から人びとを守る 第1問
(かじからひとびとをまもる)

5 - 1

火事が おこったとき、1 1 9 番に 電話をかけます。この番号は、どこにつながる
でしょう。

- ① 近くの交番
- ② 病院 (びょういん)
- ③ 通信指令室 (つうしんしれいしつ)
- ④ 近くの小学校

はじめての
問題に
もどる

3年もくじ
にもどる

スタート
にもどる

× ざんねん！ もういちど やってみよう



まえの問題（5-1）にもどる



3年もくじ
にもどる



はじめの
問題に
もどる



スタート
にもどる

◎正かい！おみごと！ つぎの問題へ

5 火事から人びとを守る 第2問 (かじからひとびとをまもる)

5 - 2

火事の通ほうをうけると通信指令室(つうしんしれいしつ)からさまざまな場所へれんらくします。その中の1つ、水道局(すいどうきょく)のやくわりとして正しいものをえらびましょう。

- ① 消火活動(しょうかかつどう)をする。
- ② げん場の交通整理(こうつうせいり)をする。
- ③ げん場のまわりの電気(でんき)を止める。
- ④ 消火(しょうか)につかう水をつかえるようにする。

はじめての
問題に
もどる

3年もくじ
にもどる

スタート
にもどる

× ざんねん！ もういちど やってみよう



まえの問題 (5-2) に もどる



3年もくじ
にもどる



はじめの
問題に
もどる



スタート
にもどる

◎正かい！おみごと！ つぎの問題へ

5 火事から人びとを守る 第3問 (かじからひとびとをまもる)

5 - 3

右下のしゃしんは、消防（しょうぼう）せつびの1つです。どんな役わりをするのでしょうか。あてはまらないものをえらびましょう。

- ① 炎（ほのお）やけむりをふせぐ。
- ② 火事（かじ）のとき、自動（じどう）でひらく。
- ③ 緊急（きんきゅう）のときに出口（でぐち）になる。



3年もくじ
にもどる



はじめの
問題に
もどる



スタート
にもどる

× ざんねん！ もういちど やってみよう



まえの問題 (5-3) に もどる



3年もくじ
にもどる



はじめの
問題に
もどる



スタート
にもどる

◎正かい！おみごと！ つぎの問題へ

5 火事から人びとを守る 第4問 (かじからひとびとをまもる)

5 - 4

つぎの文で、消防（しょうぼう）の仕事（しごと）はどれでしょう。

- ① 火事になった家の消火活動（しょうかかつどう）をする。
- ② 火事のげん場ふきんの電気を止める。
- ③ 火事のけが人の手当てを行う。
- ④ 火事のげん場ふきんをパトロールする。



3年もくじ
にもどる



はじめの
問題に
もどる



スタート
にもどる

× ざんねん！ もういちど やってみよう



まえの問題（5-4）に もどる



3年もくじ
にもどる



はじめの
問題に
もどる



スタート
にもどる

◎正かい！おみごと！ つぎの問題へ

5 火事から人びとを守る 第5問 (かじからひとびとをまもる)

5 - 5

つぎの文の () に入ることばを えらびましょう。

火事を 前もって ふせぐために 地いきの会社やお店などに () 指導 (しどう) を行う。

① 安全 (あんぜん)

② 防火 (ぼうか)

③ 避難 (ひなん)

④ 消火 (しょうか)



3年もくじ
にもどる



はじめの
問題に
もどる



スタート
にもどる

× ざんねん！ もういちど やってみよう



まえの問題（5-5）にもどる



3年もくじ
にもどる




はじめの
問題に
もどる



スタート
にもどる

◎正かい！おみごと！
さいごまでたいへんよくがんばりました。

また、
チャレンジしてね！



3年もくじ
にもどる



はじめての
問題に
もどる



スタート
にもどる

6 交通事故や事件をふせぐ (こうつうじこやじけんをふせぐ)



デジタル問題 はじめ



3年もくじ
にもどる



スタート
にもどる

6 交通事故や事件をふせぐ (こうつうじこやじけんをふせぐ)

第1問

6-1

子どもが関係（かんけい）した交通事故（こうつうじこ）の下の表を見て、こたえましょう。
子どもが自転車にのっているときの事故（じこ）の原因（げんいん）で一番、多いのは、何でしょう。

① 安全確認不足

② 一時不停止

③ い反していない

④ 信号むし

●歩いているとき

い反していない	14(2)
飛び出し	8
一人歩き（幼児）	2(1)
信号むし	3
横断のい反	1
その他	3(2)
合計	31(5)

●自転車に乗っているとき

安全確認不足	10(1)
一時不停止	11
い反していない	3(1)
信号むし	1
その他	42(6)
合計	67(8)

14才以下の事故、滋賀県内のけん数。
()は、その内の草津市のけん数。



3年もくじ
にもどる



はじめの
問題に
もどる



スタート
にもどる

× ざんねん！ もういちど やってみよう



まえの問題（6-1）にもどる



3年もくじ
にもどる



はじめの
問題に
もどる



スタート
にもどる

◎正かい！おみごと！ つぎの問題へ

6 交通事故や事件をふせぐ (こうつうじこやじけんをふせぐ)

第2問

6-2

右下のしゃしんは、交通安全（こうつうあんぜん）を守る（まもる）ためのせつびです。1～4よりあてはまるものをえらびましょう。

① ガードレール

② おうだん歩道（ほどう）

③ とびだしぼうや

④ 子ども110番の家



3年もくじ
にもどる



はじめの
問題に
もどる



スタート
にもどる

× ざんねん！ もういちど やってみよう



まえの問題（6-2）にもどる



3年もくじ
にもどる



はじめの
問題に
もどる



スタート
にもどる

◎正かい！おみごと！ つぎの問題へ

6 交通事故や事件をふせぐ (こうつうじこやじけんをふせぐ)

第3問

6-3

警察(けいさつ)の取り組みについて、つぎの文の()に入ることばをえらびましょう。

事件(じけん)を防止(ぼうし)するために、トラブルが**おこりやすい**ところは、
()を強化(きょうか)するようにしています。

① 取り締まり(とりしまり)

② メール配信(はいしん)

③ パトロール

④ ボランティア



3年もくじ
にもどる



はじめの
問題に
もどる



スタート
にもどる

× ざんねん！ もういちど やってみよう



まえの問題（6-3）にもどる



3年もくじ
にもどる



はじめの
問題に
もどる



スタート
にもどる

◎正かい！おみごと！ つぎの問題へ

6 交通事故や事件をふせぐ 第4問 (こうつうじこやじけんをふせぐ)

6-4

みなさんの 下校の見守りについて、つぎの文の () に入る ことばを えらびましょう。

() のボランティアの方が、毎日 見守って (みまもって) くださっています。おかげで、みんなが 安心して 下校できます。

① 警察署 (けいさつしょ)

② 地域 (ちいき)

③ 消防署 (しょうぼうしょ)

④ 市役所 (しやくしょ)



3年もくじ
にもどる



はじめの
問題に
もどる



スタート
にもどる

× ざんねん！ もういちど やってみよう



まえの問題（6－4）に もどる



3年もくじ
にもどる



はじめの
問題に
もどる



スタート
にもどる

◎正しい！おみごと！ つぎの問題へ

6 交通事故や事件をふせぐ 第5問 (こうつうじこやじけんをふせぐ)

6-5

警察(けいさつ)の仕事(しごと)に、あてはまらないものはどれでしょう。つぎの文からえらびましょう。

- ① 事故(じこ)の対応(たいおう)をする。
- ② おうだん歩道(ほどう)や信号(しんごう)の場(ば)しよを考える。
- ③ 交通安全(こうつうあんぜん)教室(きょうしつ)をひらく。
- ④ けが人を病院(びょういん)まで運ぶ。(はこぶ)



はじめの
問題に
もどる



3年もくじ
にもどる



スタート
にもどる

× ざんねん！ もういちど やってみよう



まえの問題（6-5）に もどる



3年もくじ
にもどる




はじめの
問題に
もどる



スタート
にもどる

◎正かい！おみごと！
さいごまでたいへんよくがんばりました。

また、
チャレンジしてね！



3年もくじ
にもどる



はじめての
問題に
もどる



スタート
にもどる

7 うつりかわる市とくらし (うつりかわるしとくらし)



デジタル問題 はじめ



3年もくじ
にもどる



スタート
にもどる

7 うつりかわる市とくらし (うつりかわるしとくらし)

第1問

7-1

右下の道具は、むかし、部屋（へや）や手をあたためるために使っていたものです。道具の名前は、何というでしょう。

- ① 火ばち
- ② 釜（かま）
- ③ ひのし
- ④ 行火（あんか）



3年もくじ
にもどる



はじめての
問題に
もどる



スタート
にもどる

× ざんねん！ もういちど やってみよう



まえの問題（7-1）に もどる



3年もくじ
にもどる



はじめの
問題に
もどる



スタート
にもどる

◎正しい！おみごと！ つぎの問題へ

7 うつりかわる市とくらし (うつりかわるしとくらし)

第2問

7-2

つぎのしゃしんを古いものからじゅんに ならべかえたとき、正しいじゅんばんに
なっているのはどれでしょう。



3年もくじ
にもどる

① 4 → 3 → 1 → 2

② 3 → 1 → 4 → 2

③ 3 → 4 → 1 → 2



はじめの
問題に
もどる



スタート
にもどる

× ざんねん！ もういちど やってみよう



まえの問題（7-2）に もどる



3年もくじ
にもどる



はじめの
問題に
もどる



スタート
にもどる

◎正しい！おみごと！ つぎの問題へ

7 うつりかわる市とくらし (うつりかわるしとくらし)

第3問

7-3

つぎの絵の中の女の人が足にはいているはきものは、何というものでしょう。

① わらじ

② わらぐつ

③ 下駄 (げた)

④ 雪駄 (せった)



3年もくじ
にもどる



はじめの
問題に
もどる



スタート
にもどる

× ざんねん！ もういちど やってみよう



まえの問題（7-3）にもどる



3年もくじ
にもどる



はじめの
問題に
もどる



スタート
にもどる

◎正しい！おみごと！ つぎの問題へ

7 うつりかわる市とくらし
(うつりかわるしとくらし)

第4問

7-4

つぎの文の () に入ることばの 組み合わせで 正しいものを えらびましょう。

わたしたちのくらしが、べんりになったのは、むかしの人の (ア)
や (イ) のおかげである。

① ア お金 イ ちえ

② ア お金 イ くふう

③ ア ちえ イ くふう



はじめの
問題に
もどる



3年もくじ
にもどる



スタート
にもどる

× ざんねん！ もういちど やってみよう



まえの問題（7-4）に もどる



3年もくじ
にもどる



はじめの
問題に
もどる



スタート
にもどる

◎正しい！おみごと！ つぎの問題へ

7 うつりかわる市とくらし
(うつりかわるしとくらし)

第5問

7-5

せんたく板のくふうについて、正しくない文はどれでしょう。

- ① 石けんがおけるくぼみがある。
- ② 板に波（なみ）もようがあり、あわがためられる。
- ③ 平ら（たいら）な板なので、せんたくものがいたまない。
- ④ 板がギザギザしているので、よごれがおちやすい。

はじめての
問題に
もどる



3年もくじ
にもどる

スタート
にもどる

× ざんねん！ もういちど やってみよう



まえの問題（7-5）に もどる



3年もくじ
にもどる




はじめの
問題に
もどる



スタート
にもどる

◎正かい！おみごと！
さいごまでたいへんよくがんばりました。

また、
チャレンジしてね！



3年もくじ
にもどる



はじめの
問題に
もどる



スタート
にもどる

8 日本の都道府県 (にほんのとどうふけん)



デジタル問題 はじめ



4年もくじ
にもどる



スタート
にもどる

8 日本の都道府県 (にほんのとどうふけん)

第1問

8-1

日本の都道府県（とどうふけん）は、全部でいくつあるでしょう。

① 48

② 47

③ 45

④ 46



4年もくじ
にもどる



はじめの
問題に
もどる



スタート
にもどる

× ざんねん！ もういちど やってみよう



前の問題（8-1）にもどる



4年もくじ
にもどる



はじめの
問題に
もどる



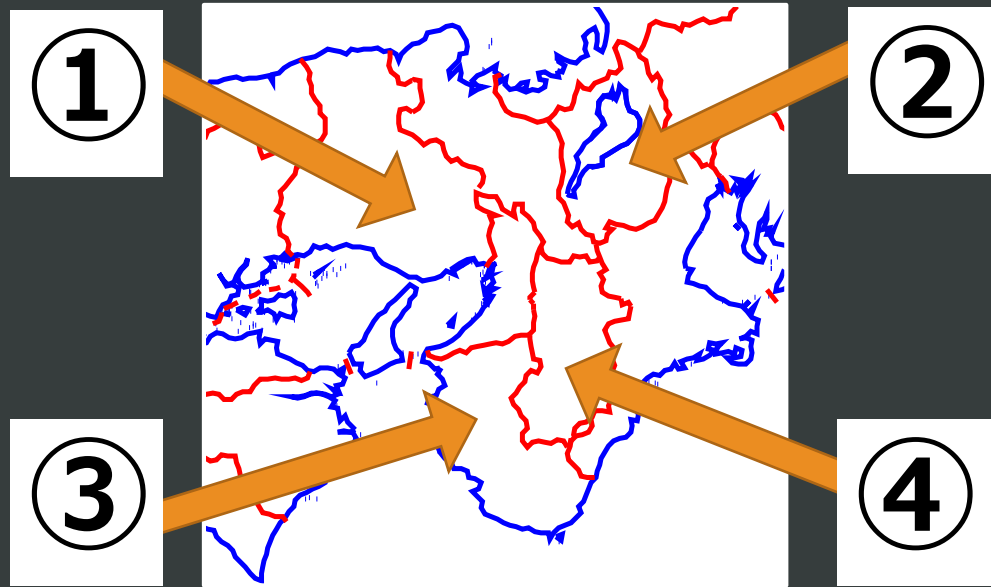
スタート
にもどる

◎正かい！おみごと！ つぎの問題へ

8 日本の都道府県 第2問
(にほんのとどうふけん)

8-2

滋賀県（しがけん）は、どこでしょう。下の地図から 正しい番号を えらびましょう。



4年もくじ
にもどる



スタート
にもどる



はじめての
問題に
もどる

× ざんねん！ もういちど やってみよう



前の問題（8-2）にもどる



4年もくじ
にもどる



はじめの
問題に
もどる



スタート
にもどる

◎正しい！おみごと！ つぎの問題へ

8 日本の都道府県 第3問 (にほんのとどうふけん)

8-3

日本の都道府県（とどうふけん）について、正しい文はどれでしょう。

- ① 沖縄県は、日本の最北にある。
- ② 北海道は、海に面していない。
- ③ 滋賀県は、日本のほぼ中心にある。
- ④ 京都には、びわ湖がある。



4年もくじ
にもどる



はじめの
問題に
もどる



スタート
にもどる

× ざんねん！ もういちど やってみよう



前の問題（8-3）にもどる



4年もくじ
にもどる



はじめの
問題に
もどる



スタート
にもどる

◎正しい！おみごと！ つぎの問題へ

8 日本の都道府県 第4問 (にほんのとどうふけん)

8-4

つぎの 3つのヒントにあてはまる都道府県（とどうふけん）は、どこでしょう。

ヒント1 近畿（きんき）地方にある県

ヒント2 大仏（だいぶつ）が有名（ゆうめい）

ヒント3 シカがたくさんいます。

① 奈良県

② 三重県

③ 滋賀県

④ 和歌山県



4年もくじ
にもどる



はじめの
問題に
もどる



スタート
にもどる

× ざんねん！ もういちど やってみよう



前の問題 (8 - 4) に もどる



4年もくじ
にもどる



はじめの
問題に
もどる



スタート
にもどる

◎正しい！おみごと！ つぎの問題へ

8 日本の都道府県 (にほんのとどうふけん)

第5問

8-5

【おぼえているかな？ 3年生のふくしゅう問題】

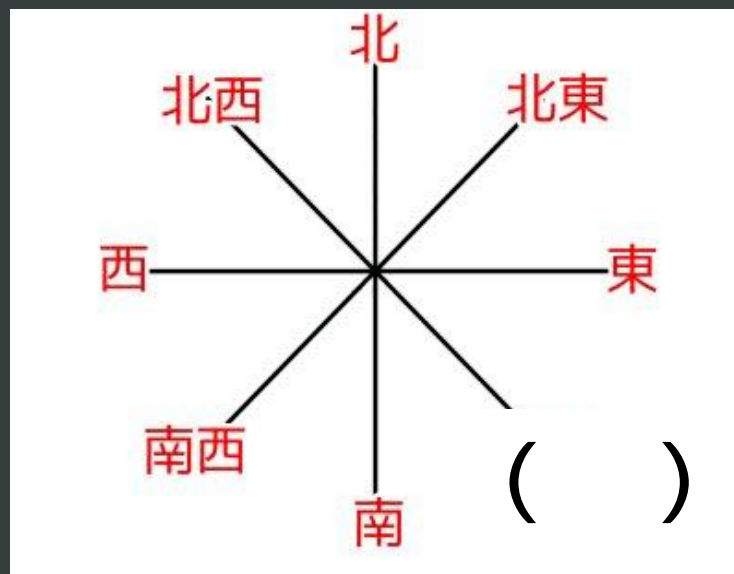
右下の八方位（はちほうい）の（ ）に入る方位をえらびましょう。

① 東南

② 南東

③ 東南東

④ 南南東



4年もくじ
にもどる



スタート
にもどる

はじめての
問題にもどる

× ざんねん！ もういちど やってみよう



前の問題 (8 - 5) に もどる



4年もくじ
にもどる




はじめの
問題に
もどる



スタート
にもどる

◎正かい！おみごと！
さいごまでたいへんよくがんばりました。

また、
チャレンジしてね！



4年もくじ
にもどる



はじめの
問題に
もどる



スタート
にもどる

9 わたしたちの県のようす (わたしたちのけんのようす)



デジタル問題 はじめ



4年もくじ
にもどる



スタート
にもどる

9 わたしたちの県のように (わたしたちのけんのように)

第1問

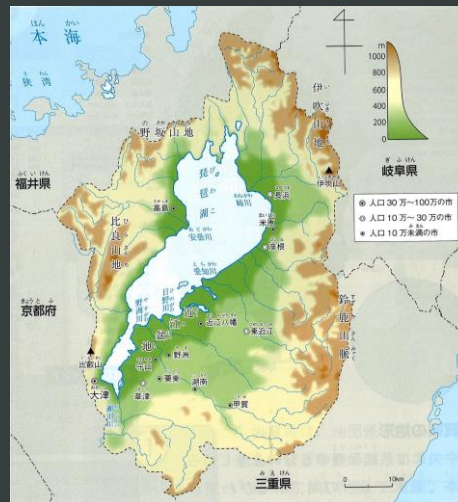
9-1

滋賀県がとなり合っている都道府県はどこでしょう。

① 福井県、岐阜県、三重県、京都府

② 兵庫県、奈良県、大阪府、和歌山県

③ 福井県、岐阜県、大阪府、京都府



4年もくじ
にもどる



はじめての
問題に
もどる



スタート
にもどる

× ざんねん！ もういちど やってみよう



前の問題（9-1）にもどる



4年もくじ
にもどる



はじめの
問題に
もどる



スタート
にもどる

◎正しい！おみごと！ つぎの問題へ

9 わたしたちの県のようす
(わたしたちのけんのようす)

第2問

9-2

琵琶湖（びわこ）は、滋賀県の面積のどれぐらいをしめるでしょう。

① 4分の1 ($1/4$)

② 5分の1 ($1/5$)

③ 6分の1 ($1/6$)



4年もくじ
にもどる



はじめの
問題に
もどる



スタート
にもどる

× ざんねん！ もういちど やってみよう



前の問題（9-2）にもどる



4年もくじ
にもどる



はじめの
問題に
もどる



スタート
にもどる

◎正しい！おみごと！ つぎの問題へ

9 わたしたちの県のようす 第3問 (わたしたちのけんのようす)

9-3

滋賀県で一番人口の多い市町は、どこでしょう。

- ① 草津市 (くさつし)
- ② 大津市 (おおつし)
- ③ 近江八幡市 (おうみはちまんし)
- ④ 長浜市 (ながはまし)



4年もくじ
にもどる



はじめの
問題に
もどる



スタート
にもどる

× ざんねん！ もういちど やってみよう



前の問題 (9-3) に もどる



4年もくじ
にもどる



はじめの
問題に
もどる



スタート
にもどる

◎正かい！おみごと！ つぎの問題へ

9 わたしたちの県のようす 第4問 (わたしたちのけんのようす)

9-4

滋賀県で一番人口密度（じんこうみつど）の高い市町村はどこでしょう。

- ① 草津市（くさつし）
- ② 大津市（おおつし）
- ③ 近江八幡市（おうみはちまんし）
- ④ 長浜市（ながはまし）



4年もくじ
にもどる



はじめの
問題に
もどる



スタート
にもどる

× ざんねん！ もういちど やってみよう



前の問題 (9 - 4) に もどる



4年もくじ
にもどる



はじめの
問題に
もどる



スタート
にもどる

◎正かい！おみごと！ つぎの問題へ

9 わたしたちの県のようす 第5問 (わたしたちのけんのようす)

9 - 5

滋賀県の土地の半分をしめるものは、何でしょう。

- ① 水面・河川（かせん）・湖（みずうみ）
- ② 宅地（たくち）
- ③ 森林
- ④ 農用地（のうようち）



4年もくじ
にもどる



はじめの
問題に
もどる



スタート
にもどる

× ざんねん！ もういちど やってみよう



前の問題 (9 - 5) に もどる



4年もくじ
にもどる




はじめの
問題に
もどる



スタート
にもどる

◎正かい！おみごと！
さいごまでたいへんよくがんばりました。

また、
チャレンジしてね！



4年もくじ
にもどる



はじめての
問題に
もどる



スタート
にもどる

10 暮らしをささえる水 (暮らしをささえるみず)



デジタル問題 はじめ



4年もくじ
にもどる



スタート
にもどる

10 暮らしをささえる水 (暮らしをささえる水)

第1問

10-1

右下の写真は、びわ湖から水を取りこむところです。何という名前のきかいでしょう。

① 着水井(ちやくすいせい)

② 導水管(どうすいかん)

③ 取水口(しゅすいこう)

④ 配水池(はいすいち)



4年もくじ
にもどる



はじめの
問題に
もどる



スタート
にもどる

× ざんねん！ もういちど やってみよう



前の問題（10-1）にもどる



4年もくじ
にもどる



はじめの
問題に
もどる



スタート
にもどる

◎正しい！おみごと！ つぎの問題へ

10 暮らしをささえる水
(暮らしをささえる水)

第2問

10-2

滋賀県がびわ湖のかんきょうを守るために定めた「びわ湖の日」は、何月何日でしょう。

① 4月1日

② 5月1日

③ 6月1日

④ 7月1日



4年もくじ
にもどる



はじめの
問題に
もどる



スタート
にもどる

× ざんねん！ もういちど やってみよう



前の問題（10-2）にもどる



4年もくじ
にもどる



はじめの
問題に
もどる



スタート
にもどる

◎正かい！おみごと！ つぎの問題へ

10 暮らしをささえる水
(暮らしをささえる水)

第3問

10-3

「湖南中部浄化センター（こなんちゅうぶじょうかセンター）」があるのは、次のうちどこでしょう。

① ロク八公園

② 矢橋帰帆島（やばせきはんとう）

③ de愛ひろば

④ 烏丸半島（からすまはんとう）



4年もくじ
にもどる



はじめの
問題に
もどる



スタート
にもどる

× ざんねん！ もういちど やってみよう



前の問題（10-3）にもどる



4年もくじ
にもどる



はじめの
問題に
もどる



スタート
にもどる

◎正かい！おみごと！ つぎの問題へ

10 暮らしをささえる水 (暮らしをささえる水)

第4問

10-4

ロクハ浄水場（じょうすいじょう）で水質（すいしつ）をかんりするためにかわられている生き物は何でしょう。

- ① 金魚やメダカ
- ② ザリガニやサワガニ
- ③ カメやカエル
- ④ タコやイカ



4年もくじ
にもどる



はじめの
問題に
もどる



スタート
にもどる

× ざんねん！ もういちど やってみよう



前の問題（10-4）にもどる



4年もくじ
にもどる



はじめの
問題に
もどる



スタート
にもどる

◎正かい！おみごと！ つぎの問題へ

10 暮らしをささえる水
(暮らしをささえる水)

第5問

10-5

湖南中部浄化（こなんちゅうぶじょうか）センターの人が、心がけていることは次のうちどれでしょう。

- ① 生き物にとって すみやすい かんきょうをつくること。
- ② 節約（せつやく）のために、水質けんさの数をへらすこと。
- ③ 多少、よごれていても 早く琵琶湖（びわこ）に水をもどすこと。

はじめての
問題に
もどる

4年もくじ
にもどる

スタート
にもどる

× ざんねん！ もういちど やってみよう



前の問題（10-5）にもどる



4年もくじ
にもどる




はじめの
問題に
もどる



スタート
にもどる

◎正かい！おみごと！
さいごまでたいへんよくがんばりました。

また、
チャレンジしてね！



4年もくじ
にもどる



はじめの
問題に
もどる



スタート
にもどる

11 ごみのしよ理と活用 (ごみのしよりとかつよう)



デジタル問題 はじめ



4年もくじ
にもどる



スタート
にもどる

11 ごみのしよ理と活用 (ごみのしよりとかつよう)

第1問

11-1

次の文の () にあてはまる言葉を選びましょう。

各家庭から出る「もえるごみ」は、まず () に出します。

① ごみ収集車 (しゅうしゅうしゃ)

② ごみ集積所 (しゅうせきじょ)

③ クリーンセンター

④ 草津市役所



4年もくじ
にもどる



はじめの
問題に
もどる



スタート
にもどる

× ざんねん！ もういちど やってみよう



前の問題 (1 1 - 1) に もどる



4年もくじ
にもどる



はじめの
問題に
もどる



スタート
にもどる

◎正かい！おみごと！ つぎの問題へ

11 ごみのしよ理と活用 (ごみのしよりとかつよう)

第2問

11-2

次の文の（ ）にあてはまる言葉を選びましょう。

できるだけ むだなごみの量を少なくする取り組みを（ ）という。

① Reduce (リデュース)

② Reuse (リユース)

③ Recycle (リサイクル)



4年もくじ
にもどる



はじめの
問題に
もどる



スタート
にもどる

× ざんねん！ もういちど やってみよう



前の問題（11-2）にもどる



4年もくじ
にもどる



はじめの
問題に
もどる



スタート
にもどる

◎正かい！おみごと！ つぎの問題へ

11 ごみのしよ理と活用 第3問 (ごみのしよりとかつよう)

11-3

下の「A地区のごみカレンダー」を見て、正しい文を選びましょう。

- ① われた鏡は、焼却ごみとして火曜日か金曜日にすてる。
- ② プラスチックごみは、水曜日にすてればよい。
- ③ ペットボトルは、指定袋に入れて第4月曜日にすてる。



4年もくじ
にもどる

A地区	焼却ごみ類	プラスチック製容器類	ペットボトル類	空き缶類	飲・食料用ガラスびん類	はさい破砕ごみ類	陶器・ガラス類	古紙類		
	指定袋	指定袋	指定袋	コンテナ	コンテナ	指定袋なし	指定袋なし	新聞・広告	雑誌・雑紙	段ボール
	毎週火・金曜日	第1・3・5水曜日	第4月曜日	第3木曜日	第3月曜日	第1月曜日	第2木曜日	第2月曜日	第1木曜日	第4木曜日
粗大ごみ	毎月第1・3月曜日 収集日7日前の月曜日までに要予約(土日祝日の場合はその前日までに) ※年末年始は収集日に変更あり インターネット受付 http://s-kantan.com/kankyoku-kusatsu-u/ 専用ダイヤル TEL.(077)561-2300 受付時間 :午前8時30分~午後5時15分(土・日・祝日・年末年始を除く)									

↑A地区のごみカレンダー



はじめの
問題に
もどる



スタート
にもどる

× ざんねん！ もういちど やってみよう



前の問題（11-3）にもどる



4年もくじ
にもどる



はじめの
問題に
もどる



スタート
にもどる

◎正かい！おみごと！ つぎの問題へ

11 ごみのしよ理と活用 (ごみのしよりとかつよう)

第4問

11-4

次の文で、ごみ収集（しゅうしゅう）する人の思いにあてはまらないものを選びましょう。

- ① ごみ袋の口は、出しやすいように軽く結んでほしい。
- ② 決められた時こくまでにごみを出してほしい。
- ③ ペットボトルはキャップをはずして水あらいしてほしい。
- ④ ガラスなどのごみは、ふくろに「きけん」と書いてほしい。



4年もくじ
にもどる



はじめの
問題に
もどる



スタート
にもどる

× ざんねん！ もういちど やってみよう



前の問題（11-4）にもどる



4年もくじ
にもどる



はじめの
問題に
もどる



スタート
にもどる

◎正かい！おみごと！ つぎの問題へ

11 ごみのしよ理と活用 (ごみのしよりとかつよう)

第5問

11-5

ごみをへらすためのくふうとして、ふさわしくない文を選びましょう。

- ① マイバッグ、マイはし、マイボトルなどを使う。
- ② 使えるものは、くり返し使うようにする。
- ③ どんな物でもよびがある方がいいので多めに買う。
- ④ 食べ残しをしない。



4年もくじ
にもどる



はじめの
問題に
もどる



スタート
にもどる

× ざんねん！ もういちど やってみよう



前の問題（11-5）にもどる



4年もくじ
にもどる




はじめの
問題に
もどる



スタート
にもどる

◎正かい！おみごと！
さいごまでたいへんよくがんばりました。

また、
チャレンジしてね！



《《《
はじめの
問題に
もどる

☐
4年もくじ
にもどる

《《《
スタート
にもどる

12 自然災害から命を守る (しぜんさいがいからいのちをまもる)



デジタル問題 はじめ



4年もくじ
にもどる



スタート
にもどる

12 自然災害から命を守る 第1問 (しぜんさいがいからいのちをまもる)

12-1

地震や風水害など、さまざまな災害が起きたときにそなえて、行われるくんれんのことを何と言いますか。

① 緊急 (きんきゅう) くんれん

② 災害 (さいがい) くんれん

③ 防災 (ぼうさい) くんれん

④ 消火 (しょうか) くんれん



4年もくじ
にもどる



はじめての
問題に
もどる



スタート
にもどる

× ざんねん！ もういちど やってみよう



前の問題（12-1）にもどる



4年もくじ
にもどる



はじめの
問題に
もどる



スタート
にもどる

◎正かい！おみごと！ つぎの問題へ

12 自然災害から命を守る 第2問 (しぜんさいがいからいのちをまもる)

12-2

地いきの防災（ぼうさい）のそなえとして、毛布やトイレなど必要（ひつよう）なものを保管（ほかん）している所を何と言いますか。

- ① かまどベンチ
- ② 屋外（おくがい）スピーカー
- ③ 防災（ぼうさい）びちく倉庫（そうこ）
- ④ 防災（ぼうさい）マップ

はじめての
問題に
もどる



4年もくじ
にもどる

スタート
にもどる

× ざんねん！ もういちど やってみよう



前の問題（12-2）にもどる



4年もくじ
にもどる



はじめの
問題に
もどる



スタート
にもどる

◎正しい！おみごと！ つぎの問題へ

12 自然災害から命を守る 第3問 (しぜんさいがいからいのちをまもる)

12-3

次の文で、災害（さいがい）が起きたときの行動としてまちがっているものは、どれでしょうか。

- ① 地震が起きたら、すぐに走って外に出る。
- ② 災害(さいがい)の正しい情報(じょうほう)を受け取る
- ③ 今いる場所が安全かどうか確かめる（たしかめる）。
- ④ 大雨のときは川の様子などを見に行かない。



4年もくじ
にもどる



はじめの
問題に
もどる



スタート
にもどる

× ざんねん！ もういちど やってみよう



前の問題（1 2 - 3）にもどる



4年もくじ
にもどる



はじめの
問題に
もどる



スタート
にもどる

◎正かい！おみごと！ つぎの問題へ

12 自然災害から命を守る 第4問 (しぜんさいがいからいのちをまもる)

12-4

災害（さいがい）にそなえた草津市の取り組みに、あてはまらないものはどれでしょう。

- ① 草津市防災（ぼうさい）ハンドブックの作成
- ② 滋賀県全域（しがけんぜんいき）ハザードマップの作成
- ③ 草津市内いっせい防災（ぼうさい）行動くんれん。
- ④ 草津市防災（ぼうさい）計画の作成



4年もくじ
にもどる



はじめの
問題に
もどる



スタート
にもどる

× ざんねん！ もういちど やってみよう



前の問題（12-4）にもどる



4年もくじ
にもどる



はじめの
問題に
もどる



スタート
にもどる

◎正かい！おみごと！ つぎの問題へ

12 自然災害から命を守る 第5問 (しぜんさいがいからいのちをまもる)

12-5

草津市や地いきで防災（ぼうさい）くんれんが行われるのは、なぜでしょう。
正しい理由を選びましょう。

- ① 災害(さいがい)の原因(げんいん)を調べるため。
- ② 災害(さいがい)が起きないようにするため。
- ③ 災害(さいがい)のときにひがいをへらすため。



4年もくじ
にもどる



はじめの
問題に
もどる



スタート
にもどる

× ざんねん！ もういちど やってみよう



前の問題（12-5）にもどる



4年もくじ
にもどる




はじめの
問題に
もどる



スタート
にもどる

◎正かい！おみごと！
さいごまでたいへんよくがんばりました。

また、
チャレンジしてね！



4年もくじ
にもどる



はじめての
問題に
もどる



スタート
にもどる

13 暮らしの中に伝わる願い (暮らしのなかにつたわるねがい)



デジタル問題 はじめ



4年もくじ
にもどる



スタート
にもどる

13 暮らしの中に伝わる願い (暮らしのなかにつたわるねがい)

第1問

13-1

右下のたてものは、むかし大名（だいまよう）などが、とまったり 休んだりした場所です。何というたてものですか。

- ① 三大（さんだい）神社
- ② 草津宿本陣（ほんじん）
- ③ 伊砂砂（いささ）神社
- ④ 青地城（あおじじょう）あと



4年もくじ
にもどる



はじめての
問題に
もどる



スタート
にもどる

× ざんねん！ もういちど やってみよう



前の問題 (13-1) に もどる



4年もくじ
にもどる



はじめの
問題に
もどる



スタート
にもどる

◎正かい！おみごと！ つぎの問題へ

13 暮らしの中に伝わる願い 第2問 (暮らしのなかにつたわるねがい)

13-2

右下の写真は、矢倉（やぐら）と追分（おいわけ）にあるむかしの道案内をしめしたものです。何という名前でしょう

- ① 灯籠（とうろう）
- ② 石像（せきぞう）
- ③ 石碑（せきひ）
- ④ 道標（どうひょう）



4年もくじ
にもどる



はじめての
問題に
もどる



スタート
にもどる

× ざんねん！ もういちど やってみよう



前の問題 (13-2) に もどる



4年もくじ
にもどる



はじめの
問題に
もどる



スタート
にもどる

◎正かい！おみごと！ つぎの問題へ

13 暮らしの中に伝わる願い 第3問 (暮らしのなかにつたわるねがい)

13-3

右下の写真は、藤（ふじ）の花で有名な神社です。何という神社でしょうか。

① 老杉（おいすぎ）神社

② 伊砂砂（いささ）神社

③ 三大（さんだい）神社



4年もくじ
にもどる



はじめての
問題に
もどる



スタート
にもどる

× ざんねん！ もういちど やってみよう



前の問題（13-3）にもどる



4年もくじ
にもどる



はじめの
問題に
もどる



スタート
にもどる

◎正しい！おみごと！ つぎの問題へ

13 暮らしの中に伝わる願い 第4問 (暮らしのなかにつたわるねがい)

13-4

きょう土芸能（げいのう）や祭り（まつり）について、つぎの文の（ア）（イ）に入る言葉の組み合わせで正しいものを選びましょう。

きょう土芸能（げいのう）の歌やおどりには、1つ1つに（ア）があり、（イ）の思いや願い（ねがい）がこめられている。

①ア 意味（いみ） イ つくった人

②ア 名前（なまえ） イ 子どもたち

③ア 意味（いみ） イ 受けついできた人たち

④ア 名前（なまえ） イ つくった人



4年もくじ
にもどる



はじめの
問題に
もどる



スタート
にもどる

× ざんねん！ もういちど やってみよう



前の問題（13-4）にもどる



4年もくじ
にもどる



はじめの
問題に
もどる



スタート
にもどる

◎正かい！おみごと！ つぎの問題へ

13 暮らしの中に伝わる願い 第5問 (暮らしのなかにつたわるねがい)

13-5

ユネスコの無形文化遺産（むけいぶんかいさん）にとうろくされた「サンヤレ踊り（おどり）」のほぞん会の方の願い（ねがい）として、ふさわしくないものはどれでしょう。

- ① 地いきの人だけでなく、たくさんの人に知ってもらいたい。
- ② これからも踊り(おどり)を長く残して(のこして)いきたい。
- ③ サンヤレ踊り(おどり)という名前を変えていきたい。
- ④ 多くの人に楽しさややりがいを感じてもらい、広めていきたい。



4年もくじ
にもどる



はじめの
問題に
もどる



スタート
にもどる

× ざんねん！ もういちど やってみよう



前の問題（13-5）にもどる



4年もくじ
にもどる




はじめの
問題に
もどる



スタート
にもどる

◎正かい！おみごと！
さいごまでたいへんよくがんばりました。

また、
チャレンジしてね！



4年もくじ
にもどる



はじめての
問題に
もどる



スタート
にもどる

14 地いきの発てんにつくした人びと (ちいきのはってんにつくしたひとびと)



デジタル問題 はじめ



4年もくじ
にもどる



スタート
にもどる

14 地いきの発てんにつくした人びと (ちいきのはってんにつくしたひとびと)

第1問

14-1

下の写真は、草津市のある場所です。何という場所でしょう。

① 草津市役所

② 草津マンポ

③ 草津宿本陣(ほんじん)

④ キラリエ草津



はじめの
問題に
もどる



4年もくじ
にもどる



スタート
にもどる

× ざんねん！ もういちど やってみよう



前の問題 (14-1) に もどる



4年もくじ
にもどる



はじめの
問題に
もどる



スタート
にもどる

◎正かい！おみごと！ つぎの問題へ

14 地いきの発てんにつくした人びと
(ちいきのはってんにつくしたひとびと)

第2問

14-2

草津マンポの上を流れていた川の名前は何かというでしょう。

① 狼川 (おおかみがわ)

② 草津川 (くさつがわ)

③ 伯母川 (おばがわ)

④ 葉山川 (はやまがわ)



4年もくじ
にもどる



はじめの
問題に
もどる



スタート
にもどる

× ざんねん！ もういちど やってみよう



前の問題（14-2）にもどる



4年もくじ
にもどる



はじめての
問題に
もどる



スタート
にもどる

◎正かい！おみごと！ つぎの問題へ

14 地いきの発てんにつくした人びと
(ちいきのはってんにつくしたひとびと)

第3問

14-3

草津マンポは、人びとのどんな願いからつくられたのでしょうか。次の文で
ふさわしくないのはどれでしょう。

- ① 川のむこうがわに 早く行けるようにしてほしい
- ② ていぼうを上らなくても、川がわたれるようにしてほしい
- ③ 草津市のことをもっとたくさんの人に知ってほしい



4年もくじ
にもどる



はじめの
問題に
もどる



スタート
にもどる

× ざんねん！ もういちど やってみよう



前の問題（14-3）にもどる



4年もくじ
にもどる



はじめの
問題に
もどる



スタート
にもどる

◎正かい！おみごと！ つぎの問題へ

14 地いきの発てんにつくした人びと
(ちいきのはってんにつくしたひとびと)

第4問

14-4

むかしの草津川のように、川のそこが家の屋根よりも高くなり、ていぼうが高くなっている川のことを何と言いますか。

① 屋上川(おくじょうがわ)

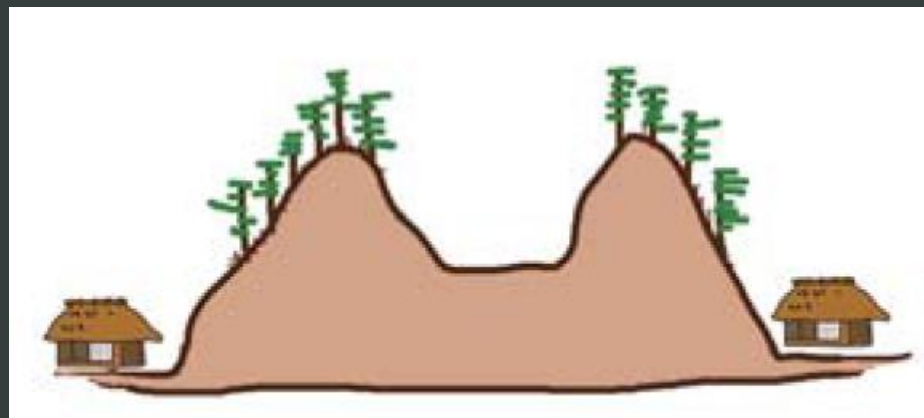
② 高層川(こうそうがわ)

③ 天井川(てんじょうがわ)

④ 上層川(じょうそうがわ)



4年もくじ
にもどる



はじめの
問題に
もどる



スタート
にもどる

× ざんねん！ もういちど やってみよう



前の問題（14-4）にもどる



4年もくじ
にもどる



はじめての
問題に
もどる



スタート
にもどる

◎正かい！おみごと！ つぎの問題へ

14 地いきの発てんにつくした人びと
(ちいきのはってんにつくしたひとびと)

第5問

14-5

草津マンポができて、人びとのくらしはどうか変わりましたか。正しいものを選びましょう

- ① 荷車（にぐるま）で重いにもつを運ぶのが楽になった。
- ② 通行する人が少なくなり、町がしずかでくらしやすくなった。
- ③ 川の向こうがわに行かなくてもよくなって楽になった。
- ④ 川の水を利用できるようになってべんりになった。



4年もくじ
にもどる



はじめの
問題に
もどる



スタート
にもどる

× ざんねん！ もういちど やってみよう



前の問題（14-5）にもどる



4年もくじ
にもどる




はじめての
問題に
もどる



スタート
にもどる

◎正かい！おみごと！
さいごまでたいへんよくがんばりました。

また、
チャレンジしてね！



4年もくじ
にもどる



はじめの
問題に
もどる



スタート
にもどる

15 市や町をたずねよう (しやまちをたずねよう)



デジタル問題 はじめ



4年もくじ
にもどる



スタート
にもどる

15 市や町をたずねよう (しまちをたずねよう)

第1問

15-1

下の写真は、滋賀県の特徴ある地いきのひとつです。何というところでしょう。

① 比叡山延暦寺 (ひえいざんえんりやくじ)

② 彦根城 (ひこねじょう)

③ 八幡堀 (はちまんぼり)

④ 白髭神社 (しらひげじんじゃ)



4年もくじ
にもどる



はじめの
問題に
もどる



スタート
にもどる

× ざんねん！ もういちど やってみよう



前の問題（15-1）にもどる



4年もくじ
にもどる



はじめの
問題に
もどる



スタート
にもどる

◎正しい！おみごと！ つぎの問題へ

15 市や町をたずねよう
(しやまちをたずねよう)

第2問

15-2

草津市と姉妹都市協定（しまいとしきょうてい）をむすんでいるミシガン州（しゅう）があるのは、どこの国でしょう。

①



中華人民共和国（ちゅうかじんみんきょうわこく）

②



アメリカ合衆国（がっしゅうこく）

③



ブラジル



4年もくじ
にもどる



はじめの
問題に
もどる



スタート
にもどる

× ざんねん！ もういちど やってみよう



前の問題（15-2）にもどる



4年もくじ
にもどる



はじめての
問題に
もどる



スタート
にもどる

◎正かい！おみごと！ つぎの問題へ

15 市や町をたずねよう
(しやまちをたずねよう)

第3問

15-3

伝統的(でんとうてき)な産業(さんぎょう)がさかんなまち「信楽町(しがらきちょう)」の特色として正しいものはどれでしょう。

- ① 世界遺産(いさん)のひえい山えんりやく寺がある。
- ② おき物や陶器(とうき)など焼き物作りがさかん。
- ③ 山のしゃ面を生かした棚田(たなだ)の米作りがさかん。
- ④ 自然のわき水を生かしたくらしで有名(ゆうめい)。



4年もくじ
にもどる



はじめの
問題に
もどる



スタート
にもどる

× ざんねん！ もういちど やってみよう



前の問題（15－3）にもどる



4年もくじ
にもどる



はじめの
問題に
もどる



スタート
にもどる

◎正かい！おみごと！ つぎの問題へ

15 市や町をたずねよう
(しやまちをたずねよう)

第4問

15-4

琵琶湖（びわこ）にある4つの島で人が住んでいる島は、どれでしょう。

① 竹生島（ちくぶしま）

② 沖島（おきしま）

③ 多景島（たけしま）

④ 沖の白石（おきのしらいし）



4年もくじ
にもどる



はじめの
問題に
もどる



スタート
にもどる

× ざんねん！ もういちど やってみよう



前の問題（15－4）にもどる



4年もくじ
にもどる



はじめの
問題に
もどる



スタート
にもどる

◎正しい！おみごと！ つぎの問題へ

15 市や町をたずねよう
(しやまちをたずねよう)

第5問

15-5

つぎの文の (ア) (イ) に入る言葉の組み合わせで正しいものを選びましょう。

長浜市民国際交流協会 (ながはましみんこくさいこうりゅうきょうかい) では、日本人と外国の人が おたがいの (ア) や考え方を 知るために、さまざまな (イ) を行っています。

①ア 名前 イ 大会

②ア 名前 イ 交流 (こうりゅう)

③ア 文化 イ 大会

④ア 文化 イ 交流 (こうりゅう)



4年もくじ
にもどる



はじめての
問題に
もどる



スタート
にもどる

× ざんねん！ もういちど やってみよう



前の問題（15－5）にもどる



4年もくじ
にもどる




はじめての
問題に
もどる



スタート
にもどる

◎正かい！おみごと！
さいごまでたいへんよくがんばりました。

また、
チャレンジしてね！



4年もくじ
にもどる



はじめの
問題に
もどる



スタート
にもどる